

I NUMERI DA 0 A 9

1 Conta, scrivi il numero e colora i regoli con il colore corrispondente.



2 Scrivi i numeri sulla scala in **ordine decrescente**.

9
7
4
0



CONTO E CONFRONTO

1 Scrivi il numero **precedente** e il numero **successivo** aiutandoti con la linea dei numeri.



	4	
--	---	--

	1	
--	---	--

	6	
--	---	--

	8	
--	---	--

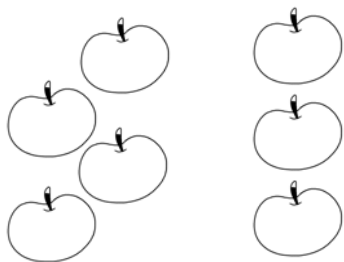
	2	
--	---	--

	3	
--	---	--

	5	
--	---	--

	7	
--	---	--

2 Conta gli elementi e scrivi i numeri. Completa con i segni $>$, $<$ oppure $=$. Segui l'esempio.




4	>	3
---	---	---




--	--	--




--	--	--




--	--	--



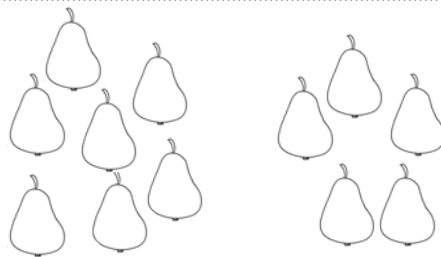
--	--	--



--	--	--



--	--	--



--	--	--



--	--	--



SCRIVO I NUMERI

1 Scrivi la cifra corrispondente al numero in lettere e accanto disegna il regolo.

UNO	<input type="text"/>																		
QUATTRO	<input type="text"/>																		
DUE	<input type="text"/>																		
SETTE	<input type="text"/>																		
OTTO	<input type="text"/>																		
CINQUE	<input type="text"/>																		
NOVE	<input type="text"/>																		
TRE	<input type="text"/>																		
SEI	<input type="text"/>																		

2 Osserva i numeri e completa con **crescente** o **decescente**.

0 1 2 3 4 5 6 7 8 9 I numeri sono in ordine

9 8 7 6 5 4 3 2 1 0 I numeri sono in ordine




PRECEDENTE E SUCCESSIVO MAGGIORE, MINORE, UGUALE

1 Completa le tabelle.

PRECEDENTE		SUCCESSIVO
4	5	
	6	
	7	
	8	

PRECEDENTE		SUCCESSIVO
3		5
4	5	
0		2
		6

2 Colora solo i numeri **maggiori** di 5.



3 Colora solo i numeri **minori** di 7.



4 **V** (vero) o **F** (falso)? Segna con una X.

V F $6 > 4$

V F $8 < 5$

V F $8 < 9$

V F $6 < 4$

V F $9 > 6$

V F $7 = 8$

V F $0 < 1$

V F $9 = 9$

V F $2 < 0$

V F $1 = 7$

V F $3 > 7$

V F $5 < 9$

