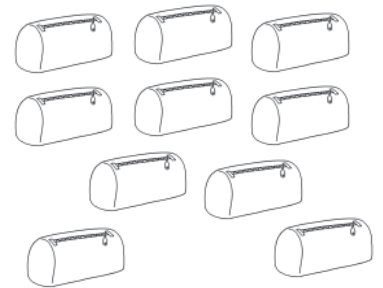
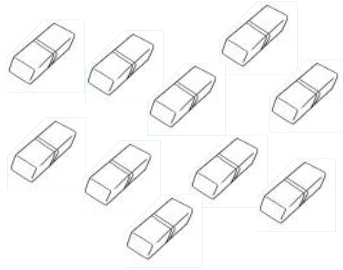
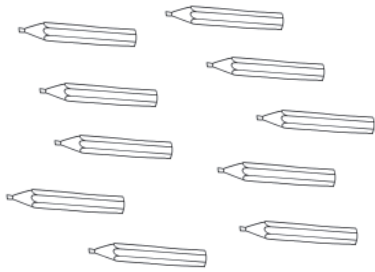


LA DECINA

1 Raggruppa gli oggetti uguali, contali e collegali al cartellino giusto.



UNA DECINA
DI GOMME

UNA DECINA
DI ASTUCCI

UNA DECINA
DI MATITE

2 Disegna le albicocche che mancano a formare una **decina**, poi completa.



$$9 + \dots = 10$$

$$9 \text{ u} + \dots \text{ u} = 1 \text{ da}$$



$$8 + \dots = 10$$

$$8 \text{ u} + \dots \text{ u} = \dots \text{ da}$$



$$7 + \dots = 10$$

$$\dots \text{ u} + \dots \text{ u} = \dots \text{ da}$$



$$6 + \dots = 10$$

$$\dots \text{ u} + \dots \text{ u} = \dots \text{ da}$$



$$5 + \dots = 10$$

$$\dots \text{ u} + \dots \text{ u} = \dots \text{ da}$$




$$4 + \dots = 10$$

$$\dots \text{ u} + \dots \text{ u} = \dots \text{ da}$$

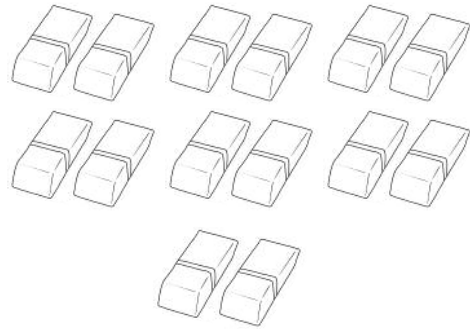


I NUMERI DA 10 A 15

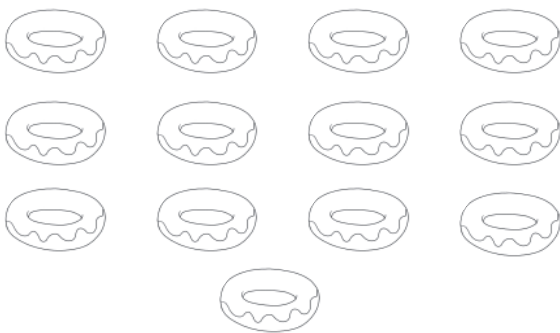
1 Raggruppa per 10, conta e completa come nell'esempio.




11 = 1 da e 1 u



..... = da e u

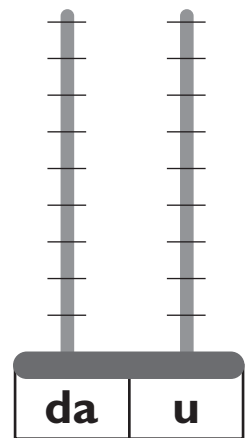
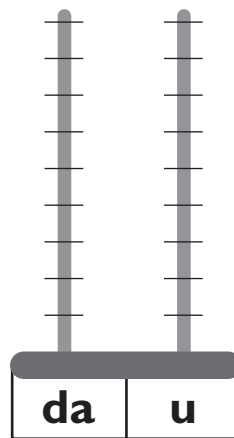
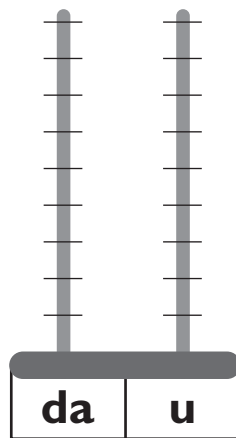
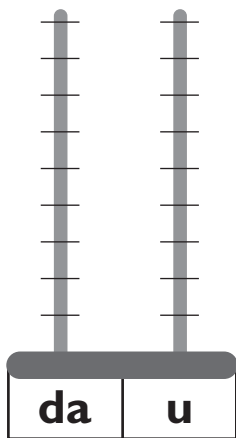


..... = da e u



..... = da e u

2 Rappresenta sugli abachi i numeri 2, 12, 5 e 15.



DECINE E UNITÀ

1 Colora i regoli e completa.

1 decina e 2 unità

$10 + 2 = \dots\dots\dots$

dodici

1 e 4

$10 + \dots = \dots$

.....

1 e 7

$10 + \dots = \dots$

.....

1 e 9

$10 + \dots = \dots$

.....

2 Completa.


- Il numero 11 è composto da 1 **da** e **u**.
- Il numero 13 è composto da **da** e **u**.
- Il numero 18 è composto da **da** e **u**.
- Il numero 20 è composto da **da** e **u**.



FINO A 20

1 Scrivi i numeri nella tabella.

12 • 19 • 20 • 8 • 11



da	u

2 Collega ogni numero al valore corrispondente.

7 u

1 da e 7 u

2 da

1 da e 10 u

17

15

7

19

13

10

20

1 da e 5 u

1 da e 9 u

1 da e 3 u

1 da e 0 u

3 Leggi i valori e scrivi i numeri in cifre e in lettere.

1 da e 9 u =

1 da e 3 u =

0 da e 9 u =

0 u e 2 da =

4 u e 1 da =

