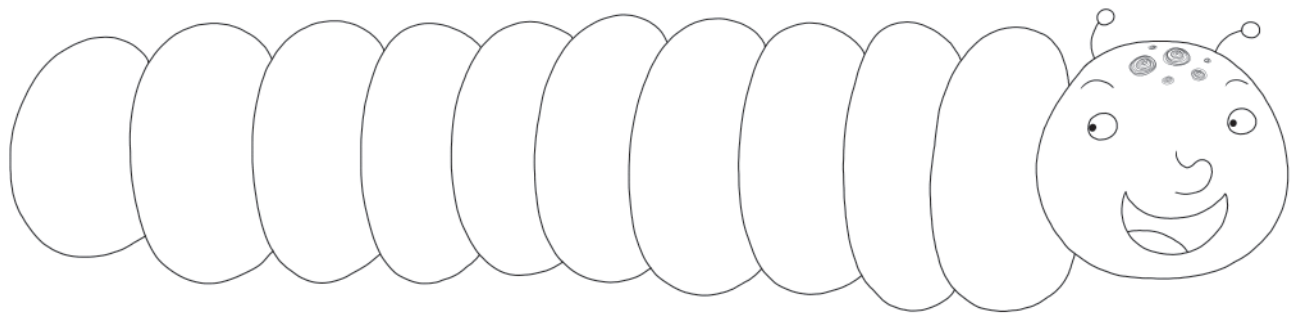


# NUMERI IN ORDINE

① Scrivi nelle caselle i numeri mancanti.

1		3	4			7			10		12			15				19	
---	--	---	---	--	--	---	--	--	----	--	----	--	--	----	--	--	--	----	--

② Ricopia i numeri dell'esercizio precedente da 20 a 11 in **ordine decrescente**.



③ Scrivi il numero **precedente** e il numero **successivo**.

	4	
--	---	--

	10	
--	----	--

	11	
--	----	--

	1	
--	---	--

	12	
--	----	--

	18	
--	----	--

	7	
--	---	--

	19	
--	----	--

	9	
--	---	--

	16	
--	----	--

	15	
--	----	--

	13	
--	----	--











# CONTO E CONFRONTO

1 Colora di rosso i numeri **maggiori** di 14 e di verde i numeri **minori** di 12.

1	0	2	14	10	6	17	11	4	7
9	15	5	16	8	20	18	3	19	12

2 Conta i vasetti e scrivi i numeri. Completa con **>** (maggiore), **<** (minore) oppure **=** (uguale).

			
<input type="text"/>	<input type="text"/>	<input type="text"/>	<input type="text"/>

			
<input type="text"/>	<input type="text"/>	<input type="text"/>	<input type="text"/>



# ORDINO E CONFRONTO

1 Ricopia in **ordine crescente** i numeri contenuti nei gruppi di cartellini.

14

9

6

16

12

13

8

20

8

5

15

12

6

16



2 Collega ogni pallina al contenitore giusto.

9

3

16

13

5

18

15

6

0

2



7

1

14

17

19

12

4

8

20

10

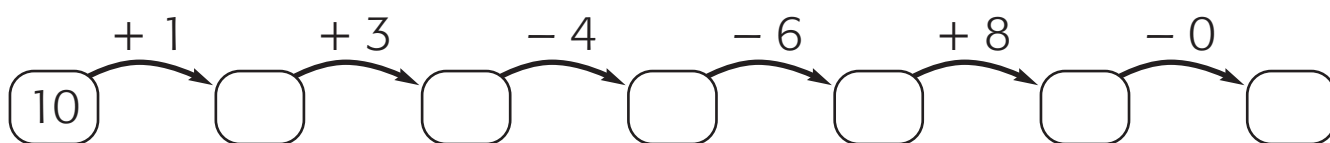
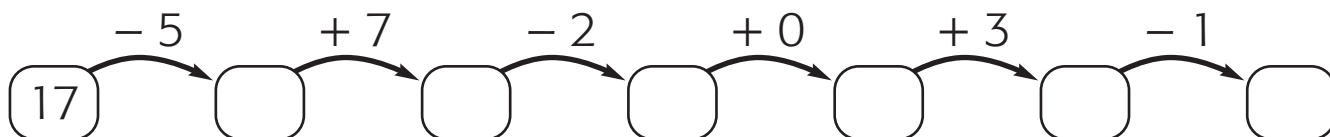
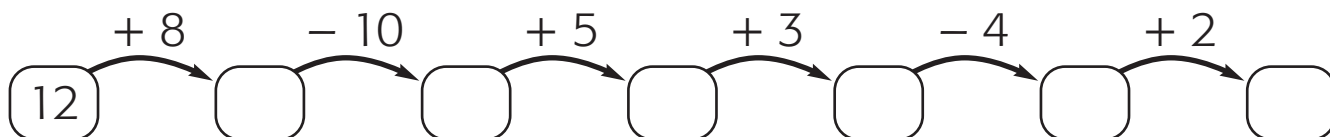


**I NUMERI FINO A 20 (Verifica p. 74) • Scheda di sviluppo 3**

Ordinare i numeri fino a 20 in senso crescente e decrescente; confrontare numeri: maggiore, minore e uguale.

# ADDIZIONI E SOTTRAZIONI

1 Completa le catene di numeri.



2 V (vero) o F (falso)? Segna con una X.

V  F  $1 + 14 = 15$   
 V  F  $12 + 5 = 16$   
 V  F  $1 + 4 + 10 = 14$

V  F  $12 - 2 = 10$   
 V  F  $14 - 3 = 13$   
 V  F  $0 + 3 + 15 = 18$

V  F  $20 - 2 = 18$   
 V  F  $17 - 6 = 14$   
 V  F  $13 - 0 = 13$

V  F  $13 + 4 = 18$   
 V  F  $20 - 10 = 10$   
 V  F  $17 - 6 = 9$

