

NUMERI NEL CIELO

1 Completa le sequenze con i numeri mancanti.



2 Completa le tabelle.



precedente	numero	successivo
	41	
	55	
	68	
	23	
	18	

precedente	numero	successivo
	76	
	90	
	99	
	30	
	57	



3 Completa scrivendo **maggiore (>)**, **minore (<)** oppure **uguale (=)** nel sole.

51  50

77  77

98  68

89  99

41  31

80  100

69  96

33  32

100  10



COMPONGO I NUMERI

1 Conta gli elementi, registra sull'abaco e completa.

da	u

• Il numero 32 è composto da decine (da) e unità (u).
 $32 = \dots \text{ da} + \dots \text{ u}$

da	u

• Il numero 45 è composto da decine (da) e unità (u).
 $45 = \dots \text{ da} + \dots \text{ u}$

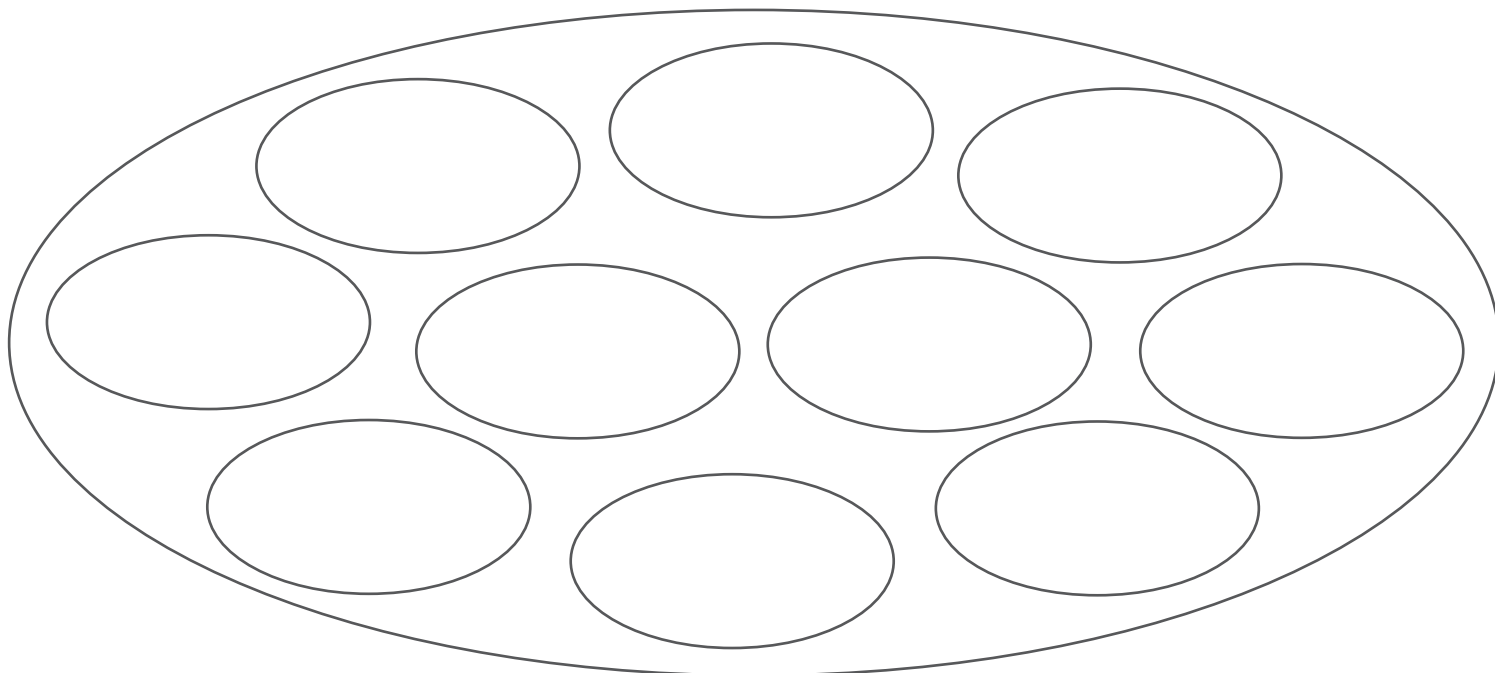
2 Componi i numeri come nell'esempio.

- $4 \text{ da} + 6 \text{ u} = 40 + 6 = 46$
- $7 \text{ da} + 6 \text{ u} = 70 + \dots = \dots$
- $6 \text{ da} + 2 \text{ u} = \dots + \dots = \dots$
- $8 \text{ da} + 3 \text{ u} = \dots + \dots = \dots$
- $9 \text{ da} + 7 \text{ u} = \dots + \dots = \dots$
- $7 \text{ da} + 9 \text{ u} = \dots + \dots = \dots$



CON L'ABACO E IL MULTIBASE


1 Disegna 10 palline blu in ogni insieme, rispondi e registra in tabella.


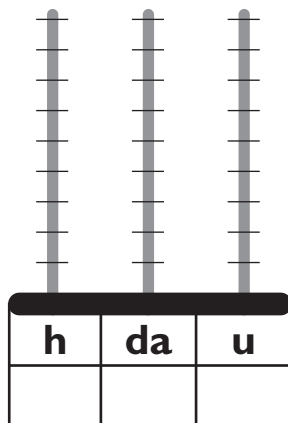


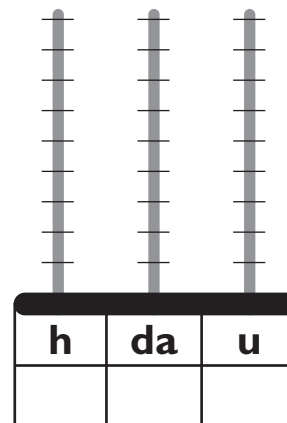
- Quante palline hai disegnato in tutto?
- Quanti gruppi da 10 ci sono?
- Quanti gruppi da 100 ci sono?

numero gruppi da 100	numero gruppi da 10	numero palline
h = centinaia	da = decine	u = unità

2 Scrivi in cifre i numeri rappresentati con il multibase e disegna le palline sull'abaco.







SCOMPONGO I NUMERI

1 Scomponi i numeri come nell'esempio.

$112 = 100 + 10 + 2$

$134 = \dots + \dots + \dots$

$107 = \dots + \dots + \dots$

$171 = \dots + \dots + \dots$

$130 = \dots + \dots + \dots$

$165 = \dots + \dots + \dots$

$129 = \dots + \dots + \dots$

$160 = \dots + \dots + \dots$

$122 = \dots + \dots + \dots$

$184 = \dots + \dots + \dots$

2 Scomponi i numeri indicando il valore di ogni cifra come nell'esempio.

$112 = 1 \text{ h} + 1 \text{ da} + 2 \text{ u}$

$134 = \dots \text{ h} + \dots \text{ da} + \dots \text{ u}$

$107 = \dots \text{ h} + \dots \text{ da} + \dots \text{ u}$

$171 = \dots \text{ h} + \dots \text{ da} + \dots \text{ u}$

$130 = \dots \text{ h} + \dots \text{ da} + \dots \text{ u}$

$165 = \dots \text{ h} + \dots \text{ da} + \dots \text{ u}$

$129 = \dots \text{ h} + \dots \text{ da} + \dots \text{ u}$

$160 = \dots \text{ h} + \dots \text{ da} + \dots \text{ u}$

$122 = \dots \text{ h} + \dots \text{ da} + \dots \text{ u}$

$184 = \dots \text{ h} + \dots \text{ da} + \dots \text{ u}$

3 In ogni numero circonda la cifra delle **centinaia**.

112

134

107

171

130

165

4 In ogni numero circonda la cifra delle **decine**.

129

160

122

184

129

143

5 In ogni numero circonda la cifra delle **unità**.

124

167

130

152

173

141

