

# ADDIZIONI E SOTTRAZIONI IN RIGA


Esegui le operazioni in riga.

1  $16 + 2 = \dots\dots\dots$      $15 + 4 = \dots\dots\dots$      $18 - 6 = \dots\dots\dots$      $17 - 4 = \dots\dots\dots$   
 $26 + 2 = \dots\dots\dots$      $25 + 4 = \dots\dots\dots$      $28 - 6 = \dots\dots\dots$      $27 - 4 = \dots\dots\dots$   
 $36 + 2 = \dots\dots\dots$      $35 + 4 = \dots\dots\dots$      $38 - 6 = \dots\dots\dots$      $37 - 4 = \dots\dots\dots$   
 $66 + 2 = \dots\dots\dots$      $65 + 4 = \dots\dots\dots$      $68 - 6 = \dots\dots\dots$      $67 - 4 = \dots\dots\dots$   
 $76 + 2 = \dots\dots\dots$      $75 + 4 = \dots\dots\dots$      $78 - 6 = \dots\dots\dots$      $77 - 4 = \dots\dots\dots$

2  $16 + 12 = \dots\dots\dots$      $15 + 14 = \dots\dots\dots$      $18 - 16 = \dots\dots\dots$      $17 - 14 = \dots\dots\dots$   
 $26 + 12 = \dots\dots\dots$      $25 + 14 = \dots\dots\dots$      $28 - 16 = \dots\dots\dots$      $27 - 14 = \dots\dots\dots$   
 $36 + 12 = \dots\dots\dots$      $35 + 14 = \dots\dots\dots$      $38 - 16 = \dots\dots\dots$      $37 - 14 = \dots\dots\dots$   
 $66 + 12 = \dots\dots\dots$      $65 + 14 = \dots\dots\dots$      $68 - 16 = \dots\dots\dots$      $67 - 14 = \dots\dots\dots$   
 $76 + 12 = \dots\dots\dots$      $75 + 14 = \dots\dots\dots$      $78 - 16 = \dots\dots\dots$      $77 - 14 = \dots\dots\dots$

3 Collega ogni operazione al suo risultato.

$15 + 13 =$      $15 + 23 =$      $21 + 18 =$      $45 - 12 =$



$55 + 21 =$      $88 - 48 =$      $90 - 60 =$      $20 + 30 =$



# ADDIZIONI E SOTTRAZIONI IN COLONNA

1 Completa le addizioni scrivendo le decine del risultato.

da u	da u	da u	da u
25 +	33 +	45 +	37 +
19 =	27 =	16 =	19 =
_____	_____	_____	_____
4	0	1	8

2 Esegui le addizioni in colonna e scrivi in rosso il **cambio** nella casella.

<input type="checkbox"/>	<input type="checkbox"/>	<input type="checkbox"/>	<input type="checkbox"/>
da u	da u	da u	da u
13 +	17 +	24 +	45 +
18 =	19 =	18 =	19 =
_____	_____	_____	_____

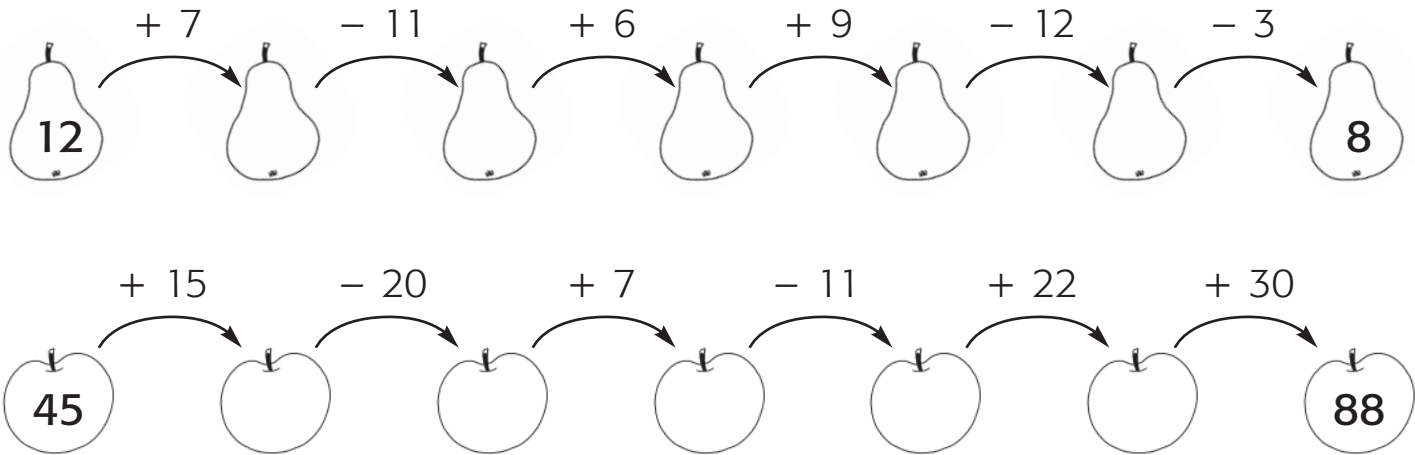
3 Esegui le sottrazioni in colonna, scrivi in verde il **cambio** e in rosso il **prestito** nelle caselle.

<input type="checkbox"/>	<input type="checkbox"/>	<input type="checkbox"/>	<input type="checkbox"/>
da u	da u	da u	da u
31 -	22 -	41 -	50 -
23 =	19 =	18 =	36 =
_____	_____	_____	_____



# OPERAZIONI VELOCI!

1 Completa le catene di numeri.



2 Completa le tabelle.

$+$	14	21	26	33	50
31					
44					
53					


$-$	10	14	32	44	56
59					
68					
96					

3 Completa i quadrati magici in modo che la somma dei numeri sia sempre 30.

	14	7
8	10	
13		11

8	6	
18	10	
	14	12

12		7
	10	15
13	9	



# ANCORA OPERAZIONI IN COLONNA

1 Colora le stelline accanto alle operazioni giuste.

da	u
3	5
1	6
5	1

 $+$

da	u
3	2
1	8
1	4

 $-$

da	u
6	7
2	4
9	5

 $+$

da	u
6	7
2	9
3	9

 $-$

da	u
4	6
3	5
8	1

 $+$

da	u
9	4
5	5
2	9

 $-$

da	u
2	2
2	9
4	1

 $+$

da	u
6	6
3	9
2	7

 $-$

2 Scrivi le cifre mancanti.

da	u
7	6
1	
8	8

 $+$

da	u
8	5
	2
4	3

 $-$

da	u
4	
1	8
5	9

 $+$

da	u
6	2
5	1

 $-$

da	u
	4
2	7
8	

 $+$

da	u
3	6
5	5

 $-$

da	u
1	5
9	3

 $+$

da	u
	4
2	
1	5

 $-$

