

TABELLINE IN FESTA!

1 Completa le tabelline.

x ↗	0	1	2	3	4	5	6	7	8	9	10
3											

x ↗	0	1	2	3	4	5	6	7	8	9	10
4											

x ↗	0	1	2	3	4	5	6	7	8	9	10
5											

2 Collega ogni moltiplicazione al suo risultato.

4 × 5
6 × 6
9 × 5
4 × 8

20
18
36
49
10
90
32
45

2 × 9
7 × 7
5 × 2
9 × 10

3 Colora i pacchetti con le moltiplicazioni esatte.

2 × 7 = 14
6 × 8 = 58
7 × 6 = 42
7 × 7 = 49

5 × 9 = 44
4 × 8 = 42
3 × 7 = 21
5 × 8 = 40



MOLTIPLICAZIONI IN COLONNA

1 Esegui le operazioni in colonna, servendoti dei suggerimenti di Flic e Flocc.




Prima moltiplica il moltiplicatore per le unità: $2 \times 4 = 8$
 Poi moltiplica il moltiplicatore per le decine: $2 \times 1 = 2$

da	u		
1	4	×	
	2	=	

da	u		
1	4	×	
	3	=	

Prima moltiplica il moltiplicatore per le unità: $3 \times 4 = 12$
 Riporta la decina del risultato nella colonna delle decine.
 Poi moltiplica il moltiplicatore per le decine: $3 \times 1 = 3$.
 Infine aggiungi la decina del cambio.



2 Metti in colonna, poi esegui le moltiplicazioni.

$23 \times 3 =$

da	u		

$44 \times 2 =$

da	u		

$15 \times 5 =$

da	u		

$13 \times 6 =$

da	u		

$18 \times 2 =$

da	u		

$23 \times 4 =$

da	u		

$17 \times 5 =$

da	u		

$12 \times 8 =$

da	u		



MOLTIPLICAZIONI CON GLI ANIMALI

1 Completa la tabella.

x ↗	3	4	6	7	8	9	10	11
3								
5								
7								
9								

2 Completa con i numeri mancanti.

$6 \times \dots = 42$

$\dots \times 9 = 45$

$8 \times \dots = 48$

$5 \times \dots = 25$

$\dots \times 7 = 49$

$3 \times \dots = 24$

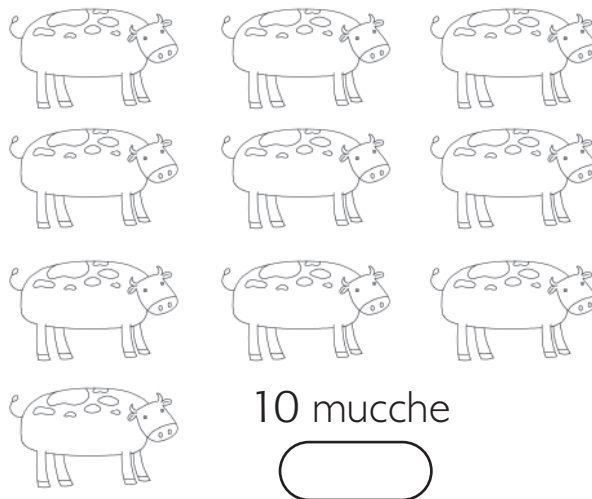
$\dots \times 7 = 63$

$6 \times \dots = 36$

$\dots \times 8 = 40$

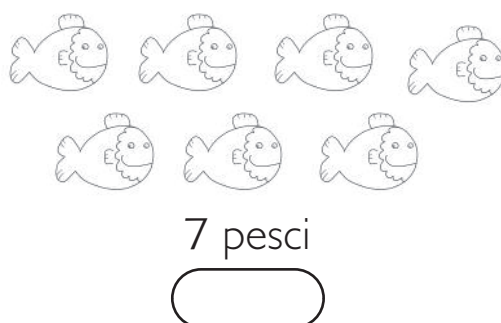
3 Scrivi in ogni cartellino il numero di zampe.

10 api




10 mucche

3 ragni



7 pesci




8 struzzi




MOLTIPLICAZIONI... DI TUTTI I TIPI!



1 Trova e scrivi i numeri che danno il risultato nel cerchietto.



48



60



2 Trova i fattori di ogni moltiplicazione e il risultato corrispondente e colorali nello stesso modo.

- 8
 9
 35
 90
 2
 72
 30
 3
 70

Risolvi i problemi.

3 Carla vuole regalare dei guanti a ognuno dei suoi 8 nipotini. Quanti guanti deve confezionare?

Operazione →

Risposta →

4 Nel soggiorno di Paola ci sono 6 sedie. Quante gambe hanno in tutto?

Operazione →

Risposta →

