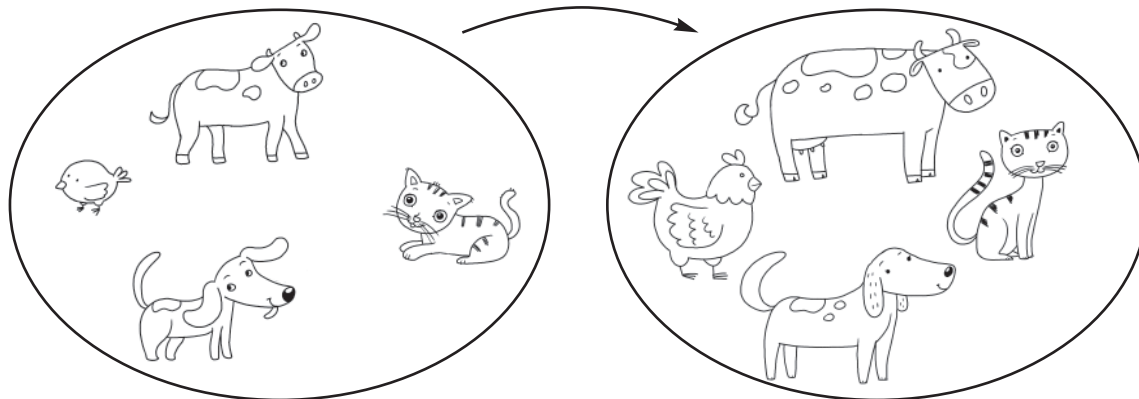


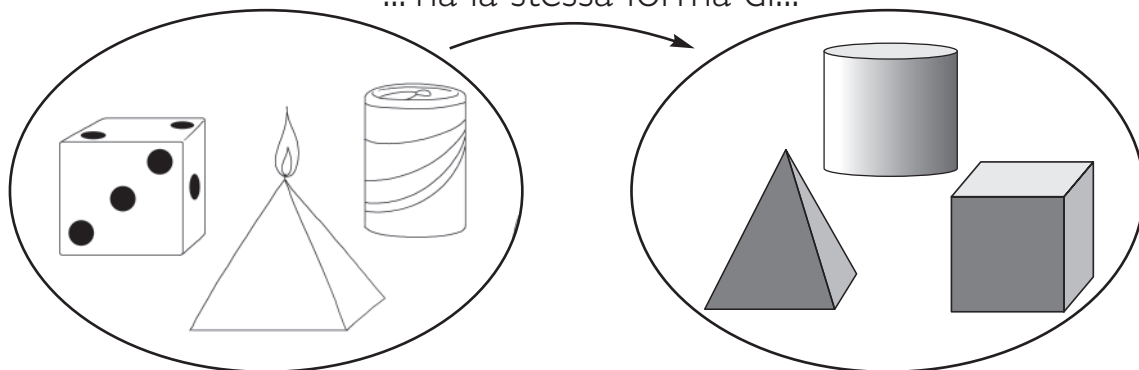
RELAZIONI... ANIMALI!

1 Collega gli elementi secondo le relazioni indicate dalle frecce.

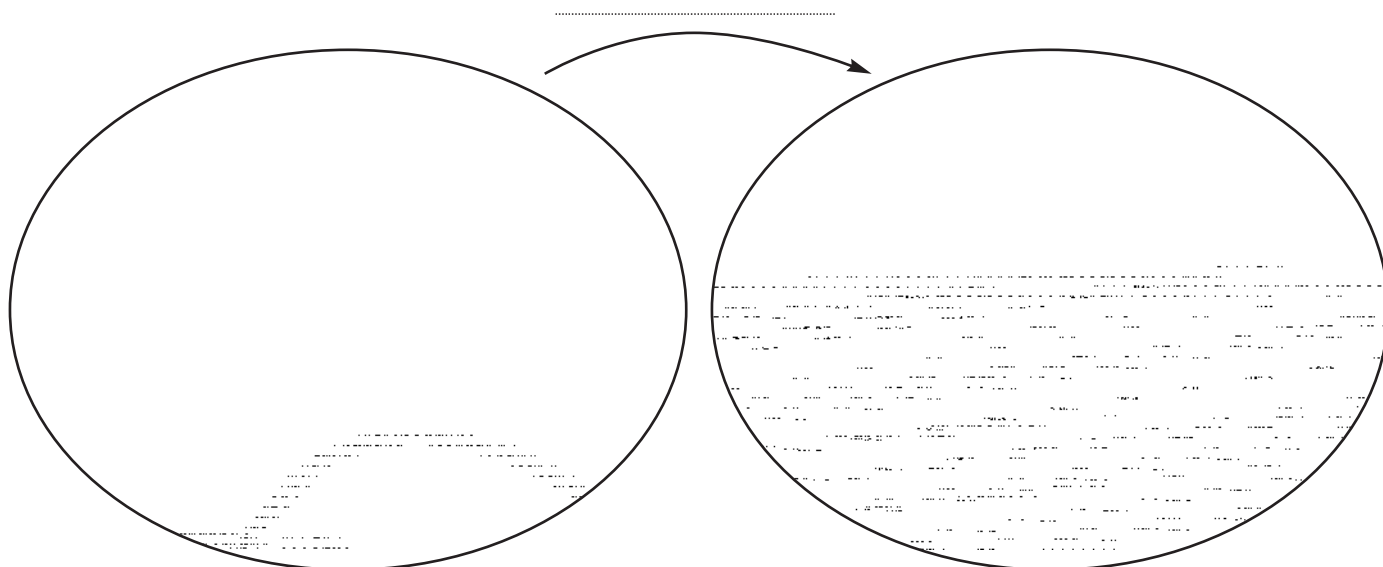
... è il cucciolo di...



... ha la stessa forma di...



2 Ora scrivi tu la relazione e collega gli elementi.



QUANTI DATI!

1 Osserva la tabella delle condizioni del tempo nel mese di gennaio e rispondi.

sole	X	X	X	X	X					
poco nuvoloso	X	X	X	X	X	X	X			
molto nuvoloso	X	X	X	X	X	X	X	X	X	X
pioggia	X	X	X	X	X	X	X			
neve	X	X								

- Quanti giorni di sole ci sono stati?
- Quanti giorni di neve?
- Qual è stata la condizione atmosferica più frequente?

2 Leggi il testo e completa la tabella con le X.

Questo mese a scuola Simone ha mangiato 9 volte la pasta, 7 volte il riso e 4 volte la minestra di legumi.



pasta														
riso														
minestra di legumi														



INDAGINI SULLE VACANZE

- 1 Leggi il contenuto dell'indagine del maestro Andrea e costruisci un **grafico a colonne** e un **ideogramma**.

Il maestro Andrea ha chiesto ai suoi 20 alunni qual è il luogo di vacanza che preferiscono. La metà preferisce andare al mare, 7 vorrebbero andare in montagna e i rimanenti vorrebbero visitare una grande città.

