

# I NUMERI OLTRE IL 100

1 Scrivi in cifre e in lettere tutti i numeri che puoi formare utilizzando le tre cifre date.



3 < .....

3 < .....

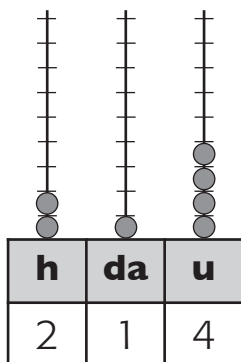
4 < .....

4 < .....

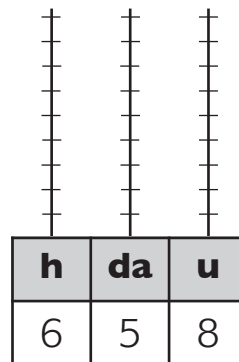
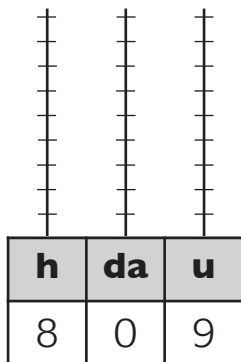
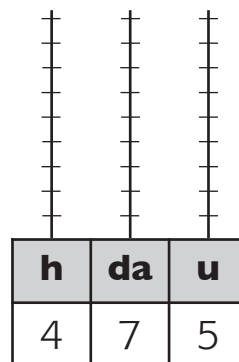
5 < .....

5 < .....

2 Rappresenta i numeri sugli abachi, scrivilo in lettere e scomponilo. Segui l'esempio.



2 h 1 da 4 u  
duecentoquattordici



# ANCORA NUMERI OLTRE IL 100

1 Completa la tabella come nell'esempio.

	h	da	u	numero
1 h 8 da 3 u	1	8	3	$100 + 80 + 3 = 183$
6 h 3 da 2 u				
4 h 7 da 5 u				
0 u 8 da 3 h				
9 h 3 u 0 da				
0 h 3 da 8 u				



2 Scrivi i numeri dell'esercizio 1 in **ordine crescente**.

○ ○ ○ ○ ○ ○



3 Scrivi i numeri dell'esercizio 1 in lettere.

.....  
 .....  
 .....  
 .....

4 Scrivi i numeri dell'esercizio 1 nel cartellino centrale; in quello a sinistra scrivi il **numero precedente** e in quello a destra il **numero successivo**.

○	○	○	.....	○	○	○
○	○	○	.....	○	○	○
○	○	○	.....	○	○	○



# NUMERI AL MARE

1 Colora nello stesso modo i cartellini e le pinne che contengono il medesimo numero.

novescentosei	trecentotrentanove	quattrocentottantasei
seicentoventiquattro	6 u 8 da 4 h	0 da 4 u 8 h
duecentonovantasei	9 u 3 da 3 h	ottocentoquattro
9 h 0 da 6 u	2 h 9 da 6 u	4 u 6 h 2 da

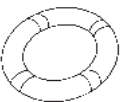
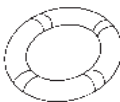
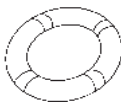
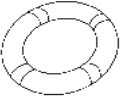
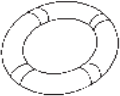



2 Completa le tabelle.

	+ 1 u	+ 1 da	+ 1 h
325			
439			
758			
392			

	- 1 u	- 1 da	- 1 h
654			
850			
700			
904			

3 Confronta e completa scrivendo >, < oppure =.

417  714	323  233	802  820	457  457
414  144	639  669	480  408	300  303



# NUMERI IN CIELO

1 Scrivi i numeri in cifre.

4 decine < ..... 123 decine < .....

8 decine < ..... 456 unità < .....

21 decine < ..... 289 decine < .....

2 Per ogni cifra evidenziata scrivi il valore come nell'esempio.

18**2**5  
↓  
2 da = 20

**3**258  
↓  
.....

8**7**05  
↓  
.....

50**7**3  
↓  
.....

9**3**78  
↓  
.....

**9**379  
↓  
.....

4**8**38  
↓  
.....

38**4**2  
↓  
.....

9**0**59  
↓  
.....

39**5**0  
↓  
.....

**5**628  
↓  
.....

68**9**2  
↓  
.....

3 Scomponi i numeri come nell'esempio.

$1345 = 1 \text{ k} + 3 \text{ h} + 4 \text{ da} + 5 \text{ u} = 1000 + 300 + 40 + 5$

$2435 =$  .....

$4059 =$  .....

$6798 =$  .....

