


SCRIVO IL TESTO DI UN PROBLEMA

1 Osserva il disegno, rispondi alle domande e scrivi il testo del problema.



- Quanto costa un pacchetto di figurine?
- Quanto costano due pacchetti di figurine?
- Quanti pacchetti di figurine può comprare Luca con la banconota che ha in mano?
- Se Luca compra due pacchetti di figurine, quanto riceve di resto?



Testo del problema

.....

.....

.....

.....

Dati

.....

.....

Operazioni

.....

.....

Risposta

.....

.....



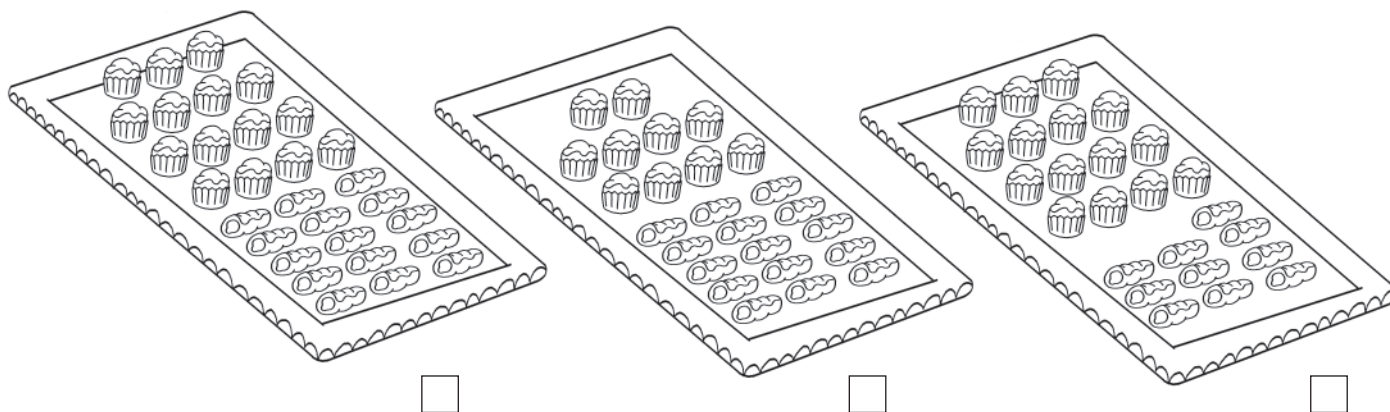
DISEGNI E DOMANDE



1 Leggi il testo, rispondi e completa.

Per la festa di compleanno di Michela la mamma ha comprato un vassoio con 25 pasticcini. Di questi, 15 sono cannoncini al cioccolato e gli altri sono bignè alla crema. Quanti sono i bignè alla crema?

• Quale disegno rappresenta la situazione descritta? Indicalo con una X.



Dati

Operazione

Risposta

2 Leggi il testo e rispondi dove è possibile.

La nonna fa la spesa al supermercato e alla cassa paga con una banconota da 50 euro. Se ha speso 39 euro, quanto riceve di resto?

- La nonna ha soldi sufficienti per pagare? **Sì** **No**
- La nonna ha comprato tutto quello che le occorreva?
- La nonna ha ricevuto resto? **Sì** **No**
- Quanto resto ha ricevuto?
- Al supermercato è andata a piedi o in autobus?
- Con il resto può comprare un libro che costa 12 euro? **Sì** **No**



DATI INUTILI

Scopri i dati inutili di questi problemi, poi risolvi con i diagrammi.

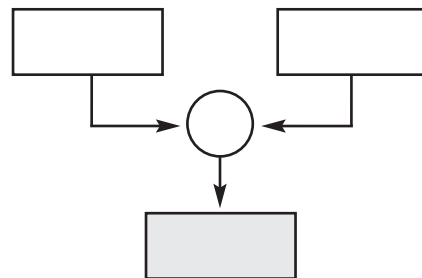
1 Filippo ha 29 figurine. Il suo amico Marco gli regala altre 15 figurine e 4 giornalini. Quante figurine ha in tutto Filippo?

Dati utili

Dato inutile

Risposta

Diagramma



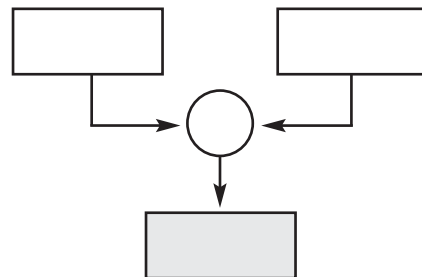
2 Paola fa una collana con 28 perline e 18 conchiglie; Tea ne fa una con 35 perline. Quante perline di differenza ci sono fra le due collane?

Dati utili

Dato inutile

Risposta

Diagramma



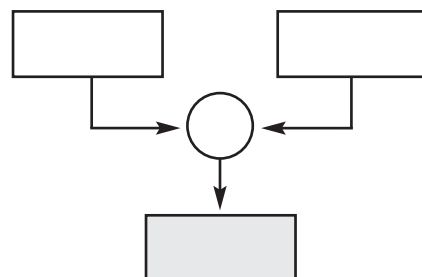
3 In un campo da calcio ci sono 45 bambini e 2 allenatori. 26 bambini sono maschi. Quante sono le femmine?

Dati utili

Dato inutile

Risposta

Diagramma



DATI MANCANTI

Scrivi i dati mancanti e risolvi i problemi con i diagrammi.

1 Un negoziante ha appena comprato 45 caramelle alla frutta. Le divide in gruppi uguali e mette ogni gruppo in una scatola dorata. Quante scatole prepara?

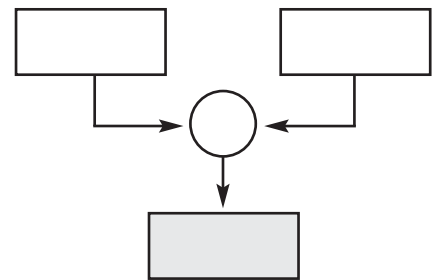


Dato utile

Dato mancante

Risposta

Diagramma



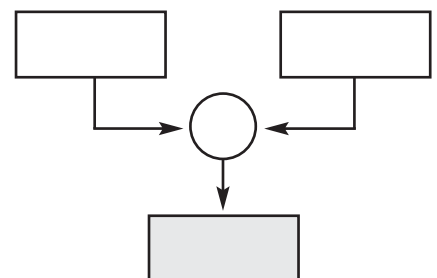
2 In una confezione ci sono 12 pennarelli. Quanti pennarelli ci sono in molte confezioni?

Dato utile

Dato mancante

Risposta

Diagramma



3 Un gelataio, per preparare un buon gelato, ha usato 48 uova. Quante confezioni ha comprato?

Dato utile

Dato mancante

Risposta

Diagramma

