


LUNGHEZZE

1 Usa il righello e misura i segmenti disegnati qui sotto.




2 Disegna i segmenti indicati.

AB di 12 mm

CD di 1 dm

EF di 6 cm

GH di 1,7 dm



3 Colora nello stesso modo le misure di lunghezza uguali.

22 m

2200 mm

2,2 m

0,22 dam

220 dm

22 dm

220 cm

0,22 hm

0,65 hm

65 m

650 m

6500 dm

0,065 km

65 dam

6,5 hm

650 dm



CAPACITÀ E PESO

1 Fai una X vicino alle misure superiori a 2 litri.

- 1997 ml 3000 ml 6740 ml 21 dl 203 cl

2 Fai una X vicino alle misure superiori a 5 chilogrammi.

- 5050 g 70 hg 4999 g 678 dag 3 Mg

3 Quale unità di misura è adatta a misurare il peso dei seguenti oggetti?
Completa scrivendo la marca: **kg, hg, g** oppure **cg**.

- un pacco di biscotti: 350
- una moneta da 2 euro: 9
- un bambino: 32



- una mela: 1
- un vocabolario: 1,5
- una piuma: 100



4 Collega le misure che indicano la stessa **capacità**.

3 decilitri e mezzo

mezzo litro

un quarto di litro

1 litro

10 decilitri

350 millilitri

5 decilitri

25 centilitri

5 Collega le misure che indicano lo stesso **peso**.

2 etti

15 etti

mezzo chilo

150 grammi

500 grammi

1 etto e mezzo

200 grammi

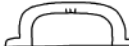
1 chilo e mezzo




EQUIVALENZE IN VIAGGIO

Completa le equivalenze.


1



400 cm = m
 2000 m = km
 7 cm e 4 mm = mm

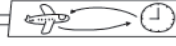


1400 cm = m
 6000 mm = m
 8 m e 30 cm = cm




620 cm = m e cm
 230 dam = km e dam
 8 km e 10 dam = dam

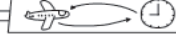
2



3000 g = kg
 6540 g = kg e g
 2000 kg = Mg




4 kg = g
 8 kg e 8 g = g
 9 Mg = kg




5 kg e 30 g = g
 2,5 Mg = kg
 8700 g = kg e g


3



3000 cl = dl
 40 dl = l
 6 dal = cl



3212 l = hl e l
 6 hl = l
 543 cl = l e cl



7000 ml = l
 4 hl e 6 dal = l
 765 dl = l e dl



PROBLEMI DI MISURA

Risolvi i problemi.

1 Il tappeto della cucina è lungo 90 cm; quello della sala è lungo 2 m. Quanti sono i centimetri di differenza tra i due tappeti?



Dati

Equivalenza

Operazione

Risposta

2 Il nonno vuole recintare l'orto con una rete. Ne acquista 36 metri, ma avanzano 80 cm. Quanti metri di rete ha usato per recintare l'orto?

Dati

Equivalenza

Operazione

Risposta

3 La mamma ha comprato 1 kg di zucchero, 3 kg di pesche, 2 pacchi di pasta da 500 g; 1 pacco di biscotti da 750 g e una scatoletta di tonno da 250 g. Se vuole distribuire il peso in due sacchetti uguali, quanto porterà ciascun sacchetto?

Dati

Equivalenze

Operazioni

Risposta

