



PAROLE LOGICHE

1 Leggi e colora secondo le indicazioni.


• **Ciascun** fiore




• Un fiore per **ciascun**




• **Almeno** un fiore




• **Ogni** fiore




• **Tutti** i fiori di un vaso




• **Qualche** fiore



• **Nessun** fiore




• **Almeno** un fiore per **ciascun** vaso



CHE COSA ACCADRÀ?


1 Scrivi accanto a ciascun evento se, secondo te, è **possibile**, **impossibile** oppure **certo**.

- Domenica andrò sulla Luna. <
- Stanotte andrò a scuola. <
- Lunedì andrò a scuola. <
- Dopo il sabato c'è la domenica. <
- Questa notte sognerò. <
- Domenica andrò in bicicletta. <



2 **V** (vero) o **F** (falso)? Osserva il sacchetto di caramelle e segna con una **X**.

- V** **F** È più probabile pescare una caramella al limone.
- V** **F** È più probabile pescare una caramella alla fragola.
- V** **F** È meno probabile pescare una caramella alla fragola.
- V** **F** È meno probabile pescare una caramella al limone.



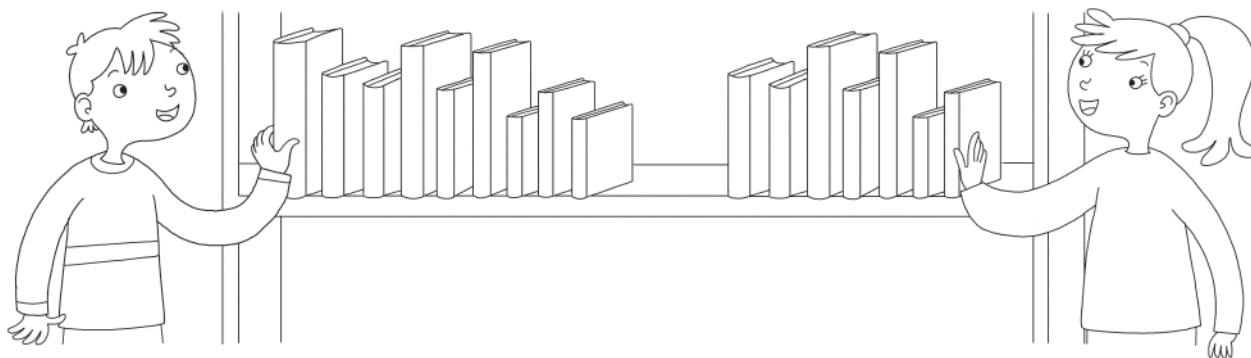
QUANTI PREFERISCONO...?

1 Quali sono le letture preferite dai bambini di classe terza?

Osserva il grafico e rispondi.

libri di avventura	X	X	X	X	X	X	X	X	X	X			
libri sulla natura	X	X	X	X	X								
libri fantasy	X	X	X	X	X	X	X	X	X	X	X	X	X
libri gialli	X	X											
fumetti	X	X	X	X	X	X							

- Quanti bambini sono stati intervistati?
- Qual è il genere di libri preferito dai bambini?
- Qual è il genere meno letto?
- Tra i fumetti e i libri gialli quante preferenze di differenza ci sono?



2 Quali altre informazioni puoi ricavare dal grafico?

Osservalo di nuovo e rispondi **sì**, **no**, **non so**.


- I bambini preferiscono leggere che guardare la tv.
- I bambini preferiscono leggere libri fantasy.
- I bambini preferiscono leggere libri gialli.



RAPPRESENTO CON I GRAFICI

Disegna gli **istogrammi** che rappresentano le situazioni descritte.

- 1 In un condominio abitano 30 famiglie. Di queste, 14 hanno un appartamento con 5 stanze; 10 hanno un appartamento con 3 stanze; 3 hanno un appartamento con 2 stanze e 3 hanno un monolocale.



- 2 In una classe di 24 bambini, 5 hanno 3 fratelli, 4 hanno 2 fratelli; 10 hanno 1 fratello e 5 sono figli unici.

