


NOME..... CLASSE..... DATA.....


# IL TEMPO LINEARE

1 Ritaglia e mescola i disegni di ciascuna storia. Poi incollali in ordine sul quaderno e scrivi ciò che accade in ciascuno di essi.

## Cenerentola



## Hänsel e Gretel



NOME..... CLASSE..... DATA.....

## MISURARE IL TEMPO

1) Scrivi i giorni della settimana che vengono prima e quelli che vengono dopo.

PRIMA		DOPO	PRIMA		DOPO
.....	domenica	.....	.....	giovedì	.....
.....	mercoledì	.....	.....	venerdì	.....

2) Scrivi la stagione che viene prima e quella che viene dopo.

PRIMA		DOPO	PRIMA		DOPO
.....	primavera	.....	.....	autunno	.....
.....	estate	.....	.....	inverno	.....

3) Scrivi i mesi che hanno 30 giorni.

.....

4) Completa la successione dei mesi a gruppi di tre.

marzo	luglio	.....
.....	.....	marzo
maggio	settembre	.....

5) Scrivi le date seguenti per esteso, come nell'esempio.

7/11 → 7 novembre    30/4 → .....    12/8 → .....

NOME..... CLASSE..... DATA.....

# ANNO DOPO ANNO

**1** Leggi e rispondi alle domande segnando con X.

- Quanti giorni ci sono in un anno?  366  365
- Quanti mesi?  4  12
- Come si chiama l'anno che ogni quattro ha un giorno in più nel mese di febbraio?  
 bisestile  maggiore
- Quanti giorni ci sono in un mese all'incirca?  31  30
- Quante settimane?  4 e mezza  2

**2** Rispondi.

- Qual è il primo giorno dell'anno? .....
- Qual è l'ultimo giorno dell'anno? .....
- Quanti giorni ha il mese di febbraio? .....
- Quanti giorni sono 2 settimane? .....
- E 3 settimane? .....


**3** Scrivi i nomi di:

- due mesi invernali; .....
- due mesi estivi: .....
- una stagione fresca: .....
- una stagione tiepida: .....
- il mese in cui finisce la scuola: .....
- il mese di Natale: .....


NOME..... CLASSE..... DATA.....

# L'OROLOGIO


1 Disegna le lancette e indica le ore giuste.




8.15



11.10



6.40



1.30

2 Leggi, calcola e rispondi.

- Sono le due del pomeriggio. Tra quante ore saranno le 8? .....
- Sono le cinque del pomeriggio. Tre ore fa Giulia è andata dal dentista. A che ora, cioè? .....
- Quanto tempo passa tra le 10 e le 4? .....
- E tra mezzogiorno e le 21,30? .....
- Sono le ore 15. Luca impiega 40 minuti per raggiungere la piscina dove si allena. A che ora arriverà? .....
- Sono le ore 18 e Marta esce dal corso di danza. La lezione è durata un'ora e mezza. A che ora era entrata? .....