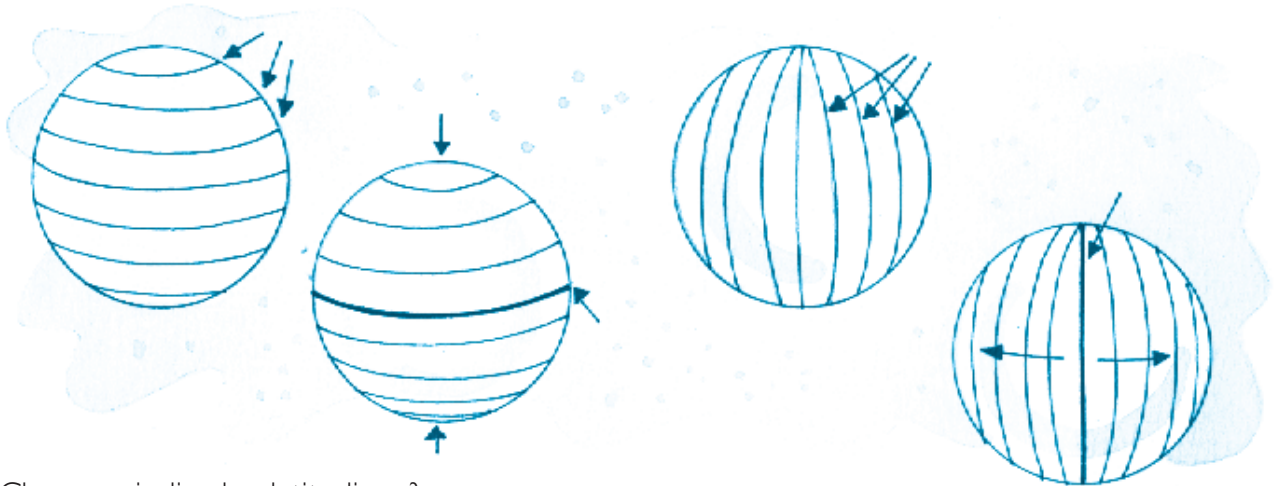


Latitudine e longitudine

1 Scrivi l'esatta denominazione degli elementi indicati nelle figure sotto.

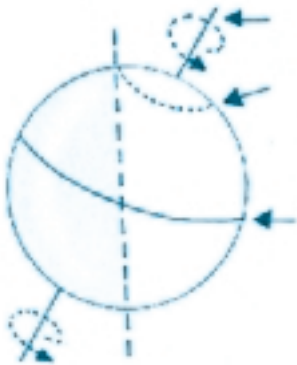


Che cosa indica la «latitudine»?
Che cosa indica la «longitudine»?

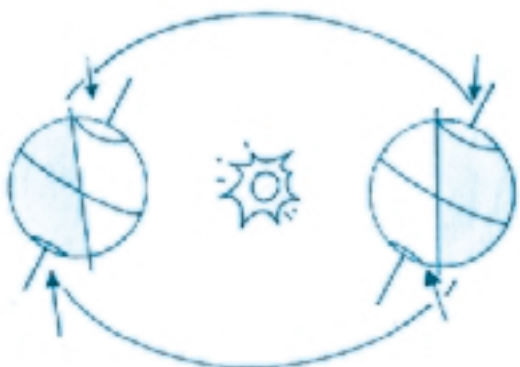
I moti della Terra

2 Osserva i disegni e completa le frasi

In questo disegno, come si muove la Terra?
.....
Come viene chiamato il movimento che compie?
.....
In quanto tempo avviene?
Cosa provoca?



In quest'altro disegno, come si muove la Terra?
.....
Come viene chiamato il movimento che compie?
.....
In quanto tempo avviene?
Cosa provoca?



In quali zone della terra vi è luce e poi buio, per sei mesi all'anno?