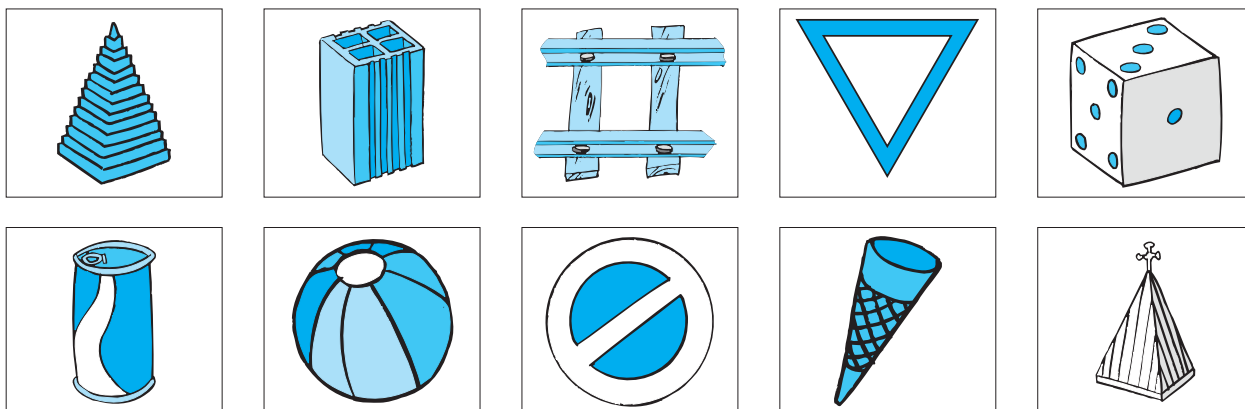


Alunno Classe Data


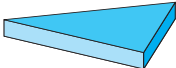
CLASSE TERZA

Geometria

1 a) Sotto a ogni disegno scrivi il nome della figura geometrica che esso ti ricorda.



b) Costruisci sul quaderno una tabella come quella qui sotto, riporta gli oggetti dell'esercizio precedente e completala.

OGGETTO	FIGURA PIANA	FIGURA SOLIDA	ALTRI OGGETTI CON LA STESSA FORMA
	triangolo	 prisma triangolare	tramezzino

2 Quadrati e girandole.

- Disegna su cartoncino un quadrato con il lato di 15 cm.
- Piega il quadrato in modo che il vertice A vada a sovrapporsi al vertice C, poi ripeti per B e D.
- Con il pennarello ripassa le linee oblique ottenute.
- Taglia lungo le linee oblique AC e BD fino ad arrivare ad 1 cm dal centro O del quadrato.
- Procurati uno spillo (o una puntina) e infilalo nel foro a, poi in b, c e d e infine in O.
- Fissa lo spillo su una bacchetta di legno. Hai così costruito una girandola.

