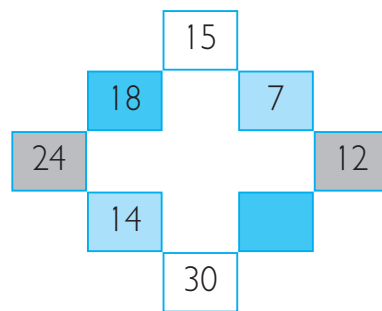
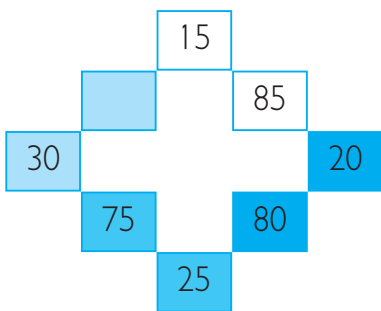


Alunno ..... Classe ..... Data .....

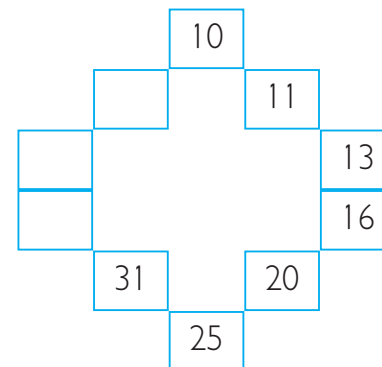
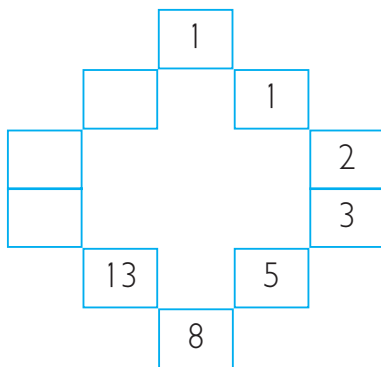
**CLASSE QUINTA**

**Giochi logici**

**1** Scrivi nelle caselle vuote il numero mancante, tenendo conto delle relazioni con gli altri numeri. Il colore delle caselle può esserti di grande aiuto.



**2** Leggi i numeri in senso orario, scopri la regola logica che li unisce e continua la serie.



**3** Scrivi il numero mancante nelle caselle vuote. Anche in questo caso, il colore può esserti d'aiuto.

